

**NASKAH SOAL SEMIFINAL  
SSO XXV  
SMA DARUL ULUM 2 UNGGULAN BPPT JOMBANG  
TAHUN 2024**

Mata Pelajaran : GEOGRAFI  
Peminatan : IPS  
Alokasi Waktu : 120 Menit

1. Study Fig 3.1 which shows the Earth's tectonic plates and their boundaries

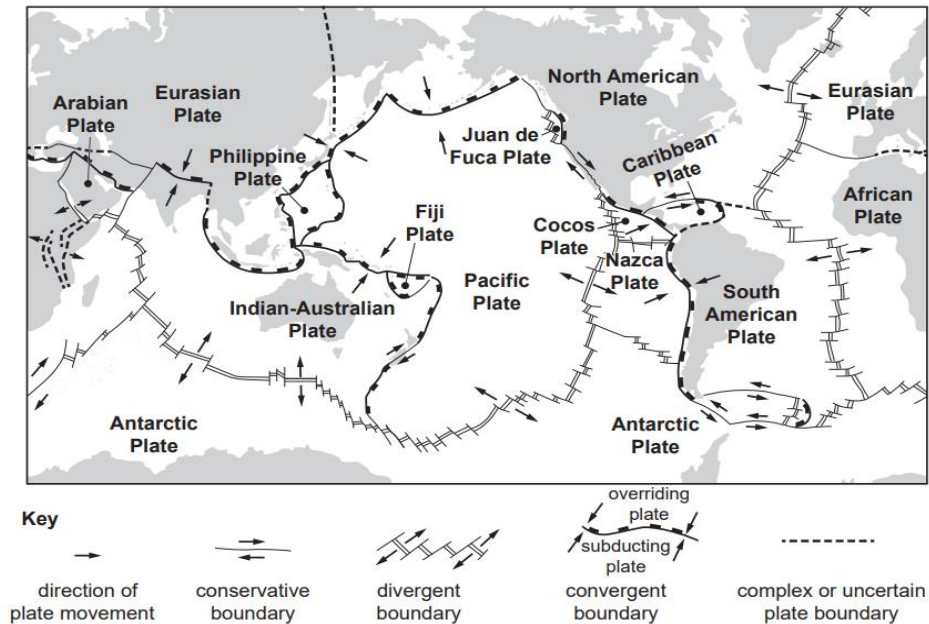
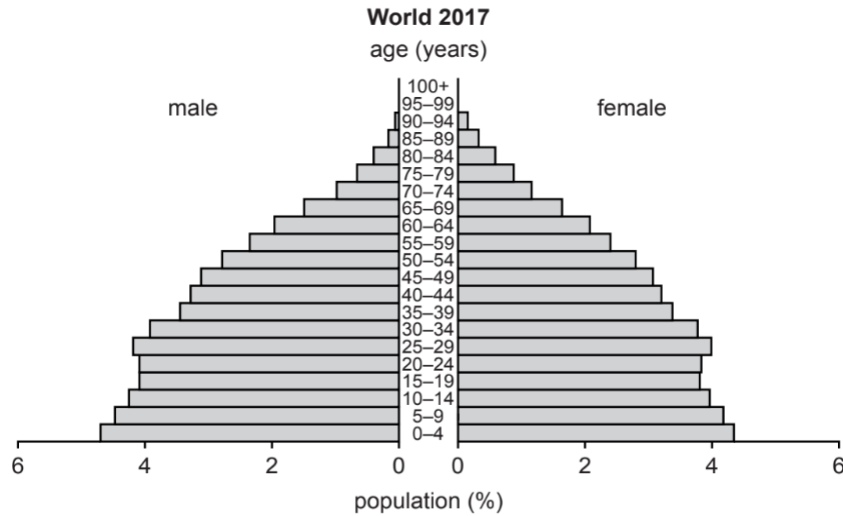


Fig. 3.1

At which type of plate boundary do plates move **away from** each other?

**Jawaban : DIVERGENT**

2. Fig. 2.1 shows the population of the world in 2017, Study Figs. 2.1 and answer the questions on the opposite page.

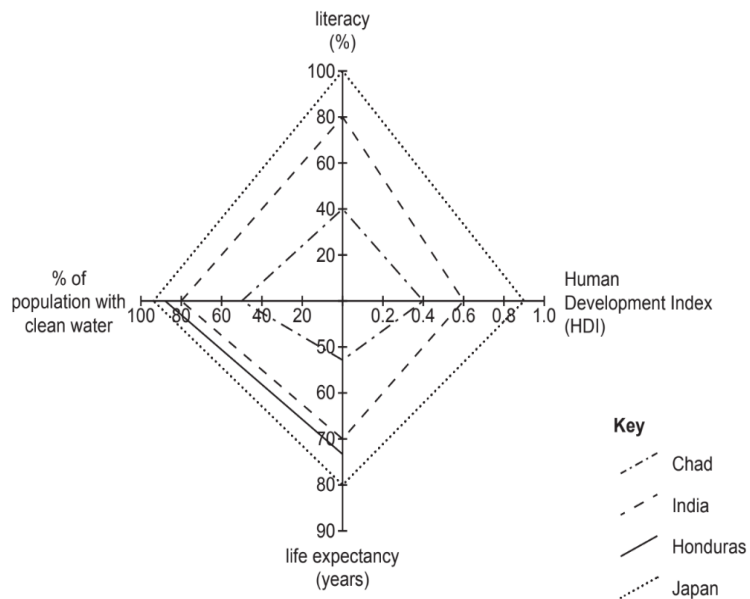


**Fig. 2.1**

What was the percentage of females aged 25–29 in the world in 2017?

**Jawaban : 4 %**

3. Study Fig. 5.1, which is a diagram showing development indicators for four countries.



**Fig. 5.1**

Identify the country shown in Fig. 5.1 which has the shortest life expectancy.

**Jawaban : CHAD**

4. Study Fig. 6.1, which shows information about precipitation and evaporation in Los Gatos, an area in California, USA (an MEDC).

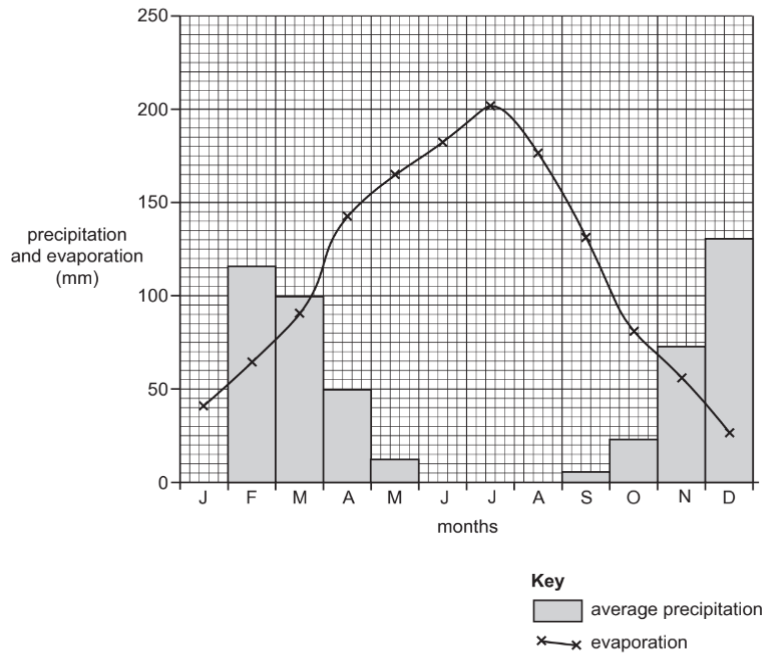


Fig. 6.1

A month when irrigation will be needed?

**Jawaban : April / May / June / July / August / September / October**

5. Fig. 6.1 shows how water is used globally and Fig. 6.2 compares how water is used in two continents.

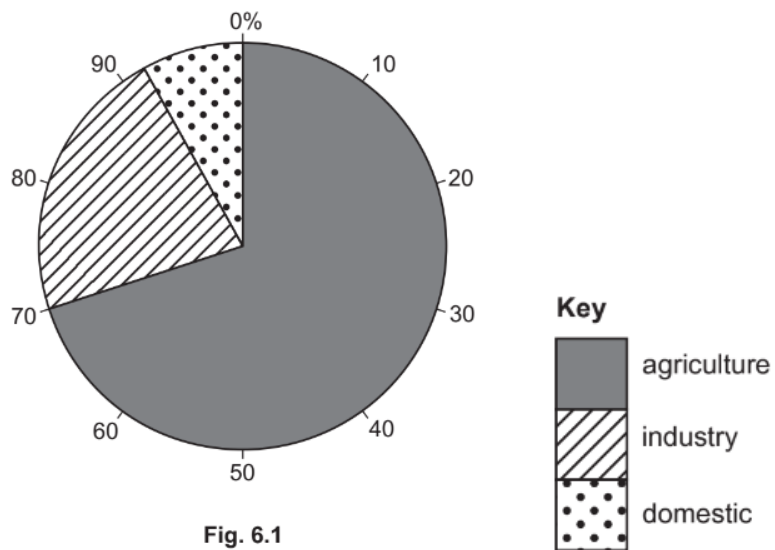
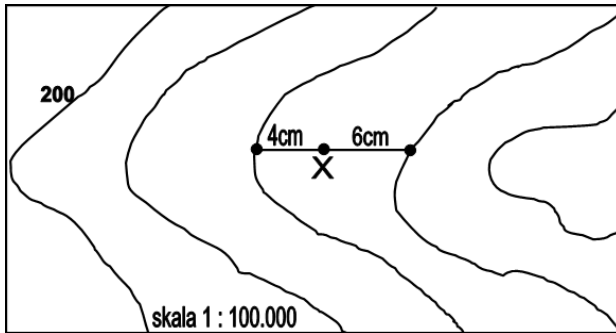


Fig. 6.1

Using Fig. 6.1, state the percentage of water used for agriculture globally?

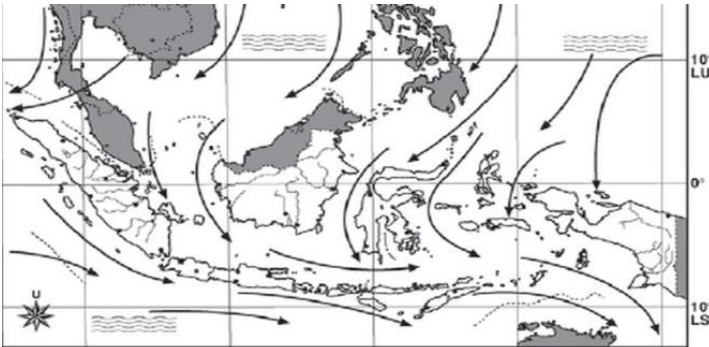
**Jawaban : 70 %**

6. Ketinggian X sesuai ilustrasi pada gambar adalah?



**Jawaban : 320 m**

7. Perhatikan gambar pergerakan angin berikut!



Angin yang berhembus dari arah Asia dan bergerak menuju Australia melalui Samudera Hindia dan Laut Cina Selatan. Angin ini terjadi dalam periode bulan Oktober-April, sehingga Indonesia akan mengalami musim penghujan. Pada saat ini, matahari berada pada belahan bumi bagian selatan atau  $23,5^\circ$  lintang selatan. Kemudian matahari akan bergerak menuju arah khatulistiwa. Jenis angin yang dimaksud adalah?

**Jawaban : MUSON BARAT**

8. Perhatikan gambar hewan berikut ini!



Hewan tersebut termasuk dalam jenis fauna yang berasal dari zona?

**Jawaban : NEOTROPIK**

9. Pengembangan wilayah baik di negara maju dan berkembang banyak terjadi di Kota-kota besar. Karena kota besar telah memberikan kontribusi sebagai pemicu pertumbuhan wilayah (*engine of regional growth*). Salah satu cara pengembangan wilayah adalah dengan reklamasi. Reklamasi laut menjadi daratan sudah menjadi tren di dunia. Proyek reklamasi laut banyak memberikan manfaat dan pertumbuhan ekonomi bagi banyak negara. Negara maju yang wilayahnya diperluas melalui reklamasi dengan mengeruk lautan di sekitar negaranya adalah?

**Jawaban : SINGAPURA / JEPANG / BELANDA / DUBAI / CHINA / KOREA SELATAN**

10. Perhatikan gambar pembentukan permukaan bumi berikut!



Ngarai besar (*Grand Canyon*) di Amerika Serikat merupakan suatu fenomena alam yang terbentuk hampir 2 miliar tahun lalu oleh Sungai Colorado. Tenaga eksogen yang mengakibatkan terbentuknya fenomena alam diatas adalah?

**Jawaban : EROSI**

11. El Niño merupakan sebuah fenomena iklim alamiah yang terjadi setiap beberapa tahun sekali di Samudra Pasifik. Peristiwa El Niño ditandai dengan kenaikan suhu permukaan laut yang tidak biasa di wilayah tengah dan timur Samudra Pasifik. Tahun 2024 ini, El Niño terjadi dengan intensitas yang signifikan. Dampaknya terasa di berbagai negara dan wilayah, mempengaruhi pertanian, perikanan, dan kesehatan masyarakat secara luas.

Bagaimana dampak jangka panjang dari El Nino 2024 terhadap ekosistem dan keseimbangan lingkungan global?

**Jawaban :**

- Perubahan ekosistem laut  
Ketersediaan nutrisi di perairan laut, yang pada gilirannya mempengaruhi kehidupan laut, seperti migrasi ikan dan distribusi plankton. Perubahan ini dapat berdampak pada rantai makanan laut
- Kerusakan ekosistem hutan dan lahan
- Pola cuaca ekstrem dan bencana alam
- Perubahan iklim global  
Peningkatan emisi gas rumah kaca akibat kebakaran hutan selama El Niño dapat berkontribusi terhadap pemanasan global
- Keseimbangan lingkungan global

12. Negara berkembang seringkali memiliki ketergantungan yang tinggi pada sektor pertanian. Jelaskan dampak positif dan negatif dari ketergantungan ini, serta sebutkan bagaimana cara negara berkembang dapat mengurangi ketergantungan tersebut?

**Jawaban :**

Dampak positif :

- Ketahanan pangan: Ketergantungan pada sektor pertanian dapat memastikan ketahanan pangan di dalam negeri.
- Sumber lapangan kerja: Sektor pertanian menyerap banyak tenaga kerja, sehingga dapat mengurangi pengangguran.
- Sumber devisa: Ekspor produk pertanian dapat menjadi sumber devisa negara.

Dampak negatif :

- Kerentanan terhadap perubahan iklim: Petani di negara berkembang lebih rentan terhadap perubahan iklim dan gagal panen.
- Pendapatan rendah: Produktivitas pertanian di negara berkembang seringkali rendah, sehingga pendapatan petani juga rendah.
- Keterbatasan pembangunan: Ketergantungan tinggi pada sektor pertanian dapat menghambat pembangunan sektor industri dan jasa.

Cara mengurangi ketergantungan :

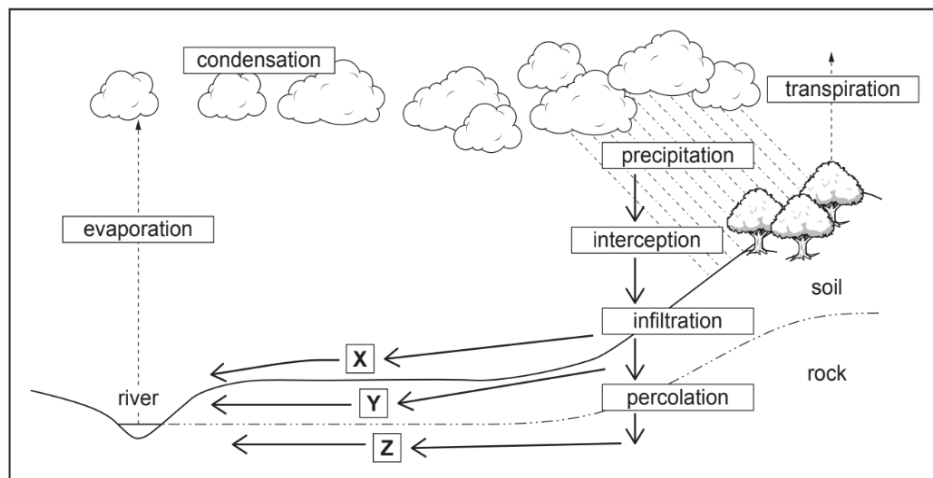
- Modernisasi pertanian: Peningkatan produktivitas pertanian melalui inovasi teknologi dan perbaikan infrastruktur.
- Diversifikasi ekonomi: Pengembangan sektor industri dan jasa untuk mengurangi ketergantungan pada pertanian.

13. Indonesia dikenal sebagai salah satu destinasi pariwisata terkemuka di dunia dengan beragam potensi alam dan budaya. Jelaskan secara mendalam potensi pariwisata Indonesia berdasarkan kekayaan alam dan keunikan budayanya. Berikan contoh destinasi wisata yang menjadi daya tarik utama dan apa yang membuatnya unik di mata wisatawan internasional?

**Jawaban :**

Indonesia memiliki potensi pariwisata yang luar biasa dengan kekayaan alamnya yang meliputi pulau-pulau tropis, pegunungan, dan lautan yang menawarkan keindahan alam yang spektakuler seperti Pulau Bali dengan pantainya yang eksotis dan Gunung Bromo yang megah. Selain itu, kekayaan budaya Indonesia yang beragam seperti pura, candi, adat istiadat, dan tradisi unik suku-suku yang tersebar di seluruh kepulauan juga menjadi daya tarik utama bagi wisatawan internasional.

14. Study Fig. 3.1, which shows information about flows through a drainage basin.



**Fig. 3.1**

What is meant by transpiration?

**Jawaban :**

From place to place – different amounts/types of plants/vegetation/trees.

Different times of year – many plants/vegetation/trees will not have leaves all year/plants/vegetation/trees may grow only during certain seasons

15. Study Fig. 4.2, which shows information about two earthquakes, one which occurred in an MEDC and one in an LEDC.

Location	Kobe (in an MEDC)	Port-au-Prince (in an LEDC)
time of day	05:46	16:53
depth of focus	16 km	12 km
magnitude (Richter scale)	7.2	7.2
deaths	6434	220 000
injured	40 000	300 000
homeless people	316 000	895 000
cost of damage	US\$220 billion	US\$11 billion

**Fig. 4.2**

Explain why earthquakes of the same magnitude may have different impacts?

**Jawaban :**

Variation in quality/cost of buildings/poorer quality buildings in LEDCs;

Variation in emergency services/rescue teams/health care/will be better in MEDCs;

Depth of focus/shallow depth of focus more destructive;

Time of day/if people are at work/in schools there is likely to be less deaths;

Variation in population density/if high there will be more impact;

Variation in amount of education/awareness about earthquake survival/evacuation plans;

Variation in access to area/roads (for rescue services);

Variation in availability of international aid;

Variation in access to food/water;

Variation in ability to monitor/study Faultline movements

Impacts will depends on physical characteristics of location or e.g. impacts will be worse if settlements are built on former lake beds/sediment/on a steep slope;

There may be more impacts if an earthquake causes a tsunami/availability of tsunami warning/tsunami defences, etc.



YAYASAN DARUL ULUM

**SMA DARUL ULUM 2 UNGGULAN BPPT JOMBANG**

NSS : 304050401005 NPSN:20540294 (TERAKREDITASI A). ISO 9001:2015

*Unggul Dalam Imtaq, Iptek, Dan Akhlaqul Karimah*

**NASKAH SOAL SEMIFINAL SEJARAH**

**SSO XXV**

**SMA DARUL ULUM 2 UNGGULAN BPPT JOMBANG**

**TAHUN 2024**

**Isian Jawaban Singkat ( IJS )**

1. Sampah dapur yang menggunung hasil peninggalan manusia purba di sepanjang pantai bagian timur Sumatera dinamakan ....

**ANSWER** : Kjekkenmoddinger

2. Mata uang yang dipakai Kerajaan Majapahit dalam perdagangan adalah.....

**ANSWER** : Mata uang Gobog

3. Gelar "Pangeran Sabrang Lor" didapatkan Pati Unus karena keberaniannya saat menyeberangi lautan untuk menyerang ..... di Malaka

**ANSWER** : Portugis

4. Salah satu Walisongo yang memimpin sebuah kesultanan sekaligus ikut berdakwah di wilayah Jawa Barat adalah...

**ANSWER** : Sunan Gunung Jati (Syarif Hidayatullah)

5. Gubernur Jenderal yang menulis *History Of Java* dan mendirikan Kebun Raya Bogor pada 1817 adalah.....

**ANSWER** : Thomas Stamford Raffles

6. Organisasi yang didirikan oleh Tiga Serangkai, yaitu Ernest Eugene Francois Douwes Dekker atau dikenal juga dengan nama Dr. Danudirja Setiabudi, dr. Cipto Mangunkusumo, dan Suwardi Suryaningrat atau yang populer dengan nama Ki Hajar Dewantara pada tanggal 25 Desember 1912 di Bandung yang memiliki tujuan dan prinsip yang sangat radikal menginginkan Indonesia merdeka adalah organisasi.....

**ANSWER** : Indische Partij



7. Teks proklamasi yang asli pernah dibuang ke tempat sampah di rumah Laksamana Maeda. Kemudian, seseorang memungutnya dan disimpan di rumahnya sampai akhirnya diserahkan kepada Museum arsip Nasional pada tahun 1992. Nama tokoh yang mengambil naskah tersebut adalah...

**ANSWER :** B.M Diah / Burhanuddin Mohammad Diah

8. Perkumpulan wanita yang memiliki tugas menjaga pertahanan peperangan garis belakang, seperti mendukung majunya perekonomian dan pengadaan berbagai peralatan pada masa pendudukan Jepang adalah...

**ANSWER :** Fujinkai

9. Sekolah yang dibangun untuk memperluas dan meratakan kesempatan belajar bagi usia 7-12 tahun dimasa Orde Baru adalah.....

**ANSWER :** SD Inpres (Sekolah Dasar Instruksi Presiden)

10. Mahasiswa UI yang tewas dalam aksi protes dan kemudian menjadi Pahlawan Ampera ialah ....

**ANSWER :** Arif Rahman Hakim

#### **URAIAN PANJANG:**

1. Pola hunian manusia purba memperlihatkan dua karakter khas, yakni kedekatan dengan sumber air dan kehidupan di alam terbuka. Pada awalnya, masyarakat praaksara hidup secara nomaden, kemudian menjadi semi sedenter, dan akhirnya menjadi sedenter. Jelaskan apa perbedaan antara Semi Sedenter dan Sedenter?

**ANSWER :**

Semi Sedenter adalah sistem dimana manusia sudah tinggal di gua namun tidak dijadikan sebagai tempat menetap. Sedangkan sedenter adalah sistem dimana manusia sudah menetap sepenuhnya dan sudah membuat pemukiman untuk tempat tinggal.

2. Nasionalisme, Agama, dan Komunisme, atau disingkat NASAKOM merupakan jargon politik yang dicetuskan oleh presiden Sukarno dan dikemukakan pada masa Demokrasi Terpimpin. Jelaskan mengapa Presiden Soekarno mencetuskan konsep Nasakom pada masa Demokrasi Terpimpin?

**ANSWER :**

Karena Presiden Soekarno adalah negarawan yang sangat terobsesi dengan persatuan. Menurut beliau, persatuan adalah hal yang sangat penting bagi kemajuan bangsa dan negara. Saat itu ada tiga ideologi atau aliran politik terbesar, yaitu Nasionalis, Agama, dan Komunis. Karena obsesi besarnya pada persatuan inilah beliau menyatukan tiga ideologi tersebut agar persatuan bangsa bisa dicapai.

3. Sumpah Palapa adalah suatu pernyataan/sumpah yang dikemukakan oleh Gajah Mada pada upacara pengangkatannya menjadi Patih Amangkubhumi Majapahit, tahun 1258 Saka (1336 M). Bagaimanakah cara Gajah Mada merealisasikan Sumpah Palapa yang ia ucapkan saat pengangkatannya sebagai Mahapatih Majapahit?

**ANSWER :**

Gajah Mada dikenal sebagai negarawan yang tidak pantang menyerah. Juga ia memiliki jiwa keprajuritan yang sangat tinggi. Ia melakukan peningkatan kekuatan tempur pasukan angkatan darat dan angkatan laut Majapahit. Angkatan Laut dikhususkan karena merupakan kekuatan yang sangat penting untuk menaklukkan diluar pulau dan untuk menjaga pertahanan dan keamanan lalu lintas perdagangan Kerajaan Majapahit dengan bangsa-bangsa lain diluar Nusantara. Dengan kekuatan militer inilah ia dapat meluaskan wilayah Majapahit sampai akhirnya bisa mewujudkan sumpah palapa dengan menyatukan Nusantara didalam satu panji Kerajaan Majapahit.

4. Politik Etis atau Politik Balas Budi adalah politik pemikiran kolonial Hindia Belanda selama empat dekade dari 1901 sampai tahun 1942. Pada 17 September 1901, Ratu Belanda Wilhelmina mengumumkan bahwa Belanda menerima tanggung jawab politik etis demi kesejahteraan rakyat kolonial mereka sedangkan Kebangkitan Nasional Indonesia adalah periode pada paruh pertama abad ke-20 di Nusantara, ketika rakyat Indonesia mulai menumbuhkan rasa kesadaran nasional sebagai "orang Indonesia". Masa ini ditandai dengan dua peristiwa penting yaitu berdirinya Budi Utomo dan ikrar Sumpah Pemuda. Jelaskan hubungan antara politik etis dengan terjadinya kebangkitan nasional di Indonesia!

**ANSWER :**

Penerapan politik etis ini memunculkan kaum bumiputra terpelajar yang nantinya akan menumbuhkan kesadaran berbangsa dan bernegara. Merekalah yang mempelopori perjuangan non-fisik dalam meraih kemerdekaan. Kaum-kaum pelajar banyak mendirikan organisasi-organisasi perjuangan yang merupakan penanda dari masa kebangkitan nasional di Indonesia.

5. Kolonialisme adalah pengembangan kekuasaan negara melalui pembentukan pemukiman di luar wilayah negaranya yang selanjutnya dinyatakan sebagai wilayah negara tersebut sedangkan imperialisme merupakan taktik untuk menguasai dunia untuk kepentingan negara penjajah dengan menduduki sekaligus menanamkan pengaruh dalam berbagai aspek kehidupan di wilayah yang dijajahnya. Sebutkan faktor-faktor yang mendorong terjadinya kolonialisme dan imperialisme oleh bangsa barat!

**ANSWER :**

Faktor-faktor yang mendorong terjadinya kolonialisme dan imperialisme oleh bangsa barat:

- Jatuhnya Konstantinopel di kawasan Laut Tengah ke kekuasaan Turki Usmani (1453 M)
- Ekonomi dan perdagangan Eropa merosot
- Adanya berbagai penemuan di bidang teknologi khususnya pelayaran sehingga muncul penjelajahan samudra untuk mencari sumber daya di dunia baru
- Semangat melanjutkan Perang Salib
- Semangat 3G (Gold, Glory, Gospel)
- Letak negara yang kurang strategis
- Teori Heliosentris

## **Soal semi final SSO ekonomi**

### **KEBIJAKAN PEMERINTAH SPANYOL**

Spanyol berada pada berbatasan dengan Perancis dan Andorra di timur laut melalui Pegunungan Pirenia. Batas lautnya adalah Samudra Atlantik di barat dan Teluk Biscay di utara serta Laut Tengah di timur, di mana Spanyol memiliki wilayah Kepulauan Balearik. Di selatan, terdapat Selat Gibraltar. Pada tahun 2015, Spanyol mencatat penurunan angka mortalitas yang pertama kali terjadi dalam beberapa abad dibandingkan dengan angka kelahiran keadaan itu juga disertai adanya penurunan aktivitas ekonomi yang signifikan dalam waktu stagnan dan lama, mulai dari berbulan-bulan hingga bertahun-tahun. Keadaan ini memicu penurunan keuntungan perusahaan, meningkatnya pengangguran, hingga kebangkrutan ekonomi. Perubahan ini tidak hanya mencerminkan evolusi signifikan dalam pola hidup masyarakat, tetapi juga menjadi titik balik penting dalam sejarah demografi negara tersebut. Diperkirakan bahwa dalam 50 tahun mendatang, populasi Spanyol akan mengalami penurunan yang drastis, memunculkan tantangan baru dalam mengelola kebijakan publik, sistem pensiun, dan infrastruktur kesehatan.

Keadaan tersebut akan mengakibatkan ekonomi terus menurun akan memaksa pemerintah Spanyol melakukan tindakan untuk merangsang pemulihan ekonomi ketika terjadi resesi. Sama halnya dalam situasi ekonomi lesu pada tahun 2019, ketika terjadi Pandemi Covid. Kembali pada permasalahan Spanyol, pemerintah Spanyol menurunkan pada tingkat suku bunga, membeli surat berharga, penurunan harga barang-barang dengan tujuan mengatasi pengangguran, dan meningkatkan daya beli masyarakat.

Spanyol memiliki GDP sebesar \$2 triliun di tahun 2015 dan GDP sebesar \$1,5 triliun di tahun 2016. Dimana ini akan mengakibatkan perubahan perekonomian negara Spanyol apalagi didukung dengan populasi Spanyol pada tahun 2015 adalah 46 juta, dan peneliti memprediksi bahwa populasi Spanyol akan menurun sebesar 0,5% setiap tahun selama 50 tahun ke depan. Hal ini tidak sebanding dengan jumlah populasi negara Spanyol yang semakin tahun semakin bertambah artinya bahwa antara angka kelahiran dan kematian tidak sebanding. Implikasinya tidak hanya berdampak pada aspek demografi, tetapi juga menjangkau lingkungan dan ekonomi, mempengaruhi pasar tenaga kerja, keberlanjutan lingkungan, serta kestabilan ekonomi negara. Oleh karena itu, pemahaman mendalam tentang dinamika populasi serta strategi adaptasi yang efektif akan menjadi kunci bagi Spanyol dalam menavigasi masa depan yang berubah secara dramatis ini.

Dengan demikian, diperlukan langkah-langkah proaktif dan solusi inovatif untuk memastikan bahwa Spanyol dapat beradaptasi dengan baik dan menjaga keberlanjutan serta kesejahteraan bagi generasi mendatang. Serta strategi untuk memulihkan keadaan perekonomian yang semakin menurun dengan menyeimbangkan antara jumlah kelahiran dan kematian serta tumbuhnya pertumbuhan ekonomi yang semakin maju.

## **IJS**

1. Pada tahun 2015 pemerintah Spanyol mengalami penurunan kondisi ekonomi yang ditandai oleh beberapa faktor di atas maka pemerintah Spanyol mengalami .....

**Jawab : Resesi**

2. Sebutkan kebijakan yang di ambil Pemerintah Spanyol dalam mengatasi keadaan ekonomi yang semakin menurun !

**Jawab : Kebijakan moneter ekspansif**

3. Bagaimana tingkat prosentase angka tenaga kerja di Spanyol dalam 50 tahun ke depan?

**Jawab : Turun**

4. Jika populasi Spanyol pada tahun 2015 adalah 46 juta, dan peneliti memprediksi bahwa populasi Spanyol akan menurun sebesar 0,5% setiap tahun selama 50 tahun ke depan. Berapakah populasi Spanyol setelah 50 tahun? (Juta)

**Jawab : 35,8**

5. Langkah apakah yang diambil Pemerintah Spanyol dalam mengatasi kelebihan Populasi yang tidak seimbang dengan kematian?

**Jawab : Meningkatkan migrasi / Perpindahan penduduk**

6. Sebutkan salah satu kebijakan yang diambil untuk mengatasi Resesi ?

**Jawab : Menurunkan angka suku bunga**

7. Dengan populasi awal 46 juta dan penurunan tahunan sebesar 0,5%, hitunglah penurunan jumlah populasi dalam angka absolut untuk tahun pertama!

**Jawab : 230.000**

8. Jika Negara Spanyol memiliki GDP sebesar \$2 triliun di tahun 2015 dan GDP sebesar \$1,5 triliun di tahun 2016. Berapakah penurunan laju pertumbuhan ekonomi negara Spanyol tahun 2016?

**Jawab : ( - 25 %)**

9. Menurut teori supply-demand, apa yang akan terjadi terhadap kondisi turunnya harga barang terhadap kuantitas barang ?

**Jawab : Kuantitas bertambah**

10. Jika diketahui pada saat pandemi Covid berlaku harga gula Rp 30.000,00 sedangkan permintaan sebesar 10 Kg, sekarang harga menjadi Rp 20.000,00 dan permintaan sebanyak 20 kg maka besar koefisien elastisitas permintaannya sebesar ?

**Jawab : 3**

## URAIAN

1. Kebijakan apakah yang dilakukan pemerintah Spanyol dalam mengatasi penurunan perekonomian (Resesi) yang terjadi di Negaranya ?

**Jawab : melakukan kebijakan moneter ekspansif yang meliputi : menurunkan suku bunga, menurunkan harga barang, membeli surat berharga, menurunkan cadangan minimal.**

2. Negara Spanyol merupakan negara maju dengan menganut sistem ekonomi liberal, banyak terdapat pasar dengan struktur pasar monopolistik, jelaskan apakah sistem liberal beserta ciri-cirinya !

**Jawab : Sistem ekonomi liberal adalah sistem ekonomi dimana perekonomian di kuasai oleh masyarakat , ciri cirinya : masyarakat diberi kebebasan menguasai perekonomian, timbul persaingan yang kuat, peran pemerintah minim, permintaan dan penawaran di tentukan oleh pasar.**

3. Keadaan saat terjadi Resesi atau penurunan perekonomian akan mengakibatkan meningkatnya pengangguran, jelaskan 5 cara mengatasi pengangguran di Negara Spanyol tersebut ?

**Jawab : 1). Memperbaiki pertumbuhan ekonomi, 2).memperbanyak lowongan pekerjaan, 3).memberikan traning kerja, 4).meningkatkan kesadaran pentingnya pendidikan, 5). penempatan kerja yang sesuai. ( sesuai argumentasi )**

4. Bagaimana konsep scarcity (kelangkaan) dapat diterapkan dalam konteks perubahan demografis di Spanyol?

**Jawab : Dengan penurunan populasi dan pertumbuhan penduduk yang lambat, tekanan pada sumber daya seperti perawatan kesehatan, sistem pensiun, dan tenaga kerja aktif menjadi lebih besar.**

5. Apa strategi ekonomi yang dapat diadopsi oleh pemerintah Spanyol untuk menghadapi penurunan populasi?

**Jawab : Meningkatkan kebijakan imigrasi terkendali, investasi dalam pendidikan dan pelatihan keterampilan, serta reformasi pasar tenaga kerja untuk meningkatkan produktivitas dan daya saing ekonomi negara.**